



**सामान्य अनुदेश :**

1. परीक्षार्थी प्रश्न-पत्र के पहले पृष्ठ पर अपना अनुक्रमांक अवश्य लिखें।
2. कृपया प्रश्न-पत्र को जाँच लें कि प्रश्न-पत्र के कुल पृष्ठों तथा प्रश्नों की उतनी ही संख्या है जितनी प्रथम पृष्ठ के सबसे ऊपर छपी है। इस बात की जाँच भी कर लें कि प्रश्न क्रमिक रूप में हैं।
3. वस्तुनिष्ठ प्रश्नों में आपको चार विकल्पों (A), (B), (C) तथा (D) में से **कोई एक** उत्तर चुनना है तथा दी गई उत्तर-पुस्तिका में आप सही उत्तर लिखिए।
4. वस्तुनिष्ठ प्रश्नों के साथ-साथ सभी प्रश्नों के उत्तर निर्धारित अवधि के भीतर ही देने हैं। वस्तुनिष्ठ प्रश्नों के लिए अलग से समय नहीं दिया जाएगा।
5. उत्तर-पुस्तिका में पहचान-चिह्न बनाने अथवा निर्दिष्ट स्थानों के अतिरिक्त कहीं भी अनुक्रमांक लिखने पर परीक्षार्थी को अयोग्य ठहराया जायेगा।
6. अपनी उत्तर-पुस्तिका पर प्रश्न-पत्र की कोड संख्या **63/OS/1**, सेट - **A** लिखें।
7. (क) प्रश्न-पत्र केवल अंग्रेजी/हिंदी माध्यम में है। फिर भी, यदि आप चाहें तो नीचे दी गई किसी एक भाषा में उत्तर दे सकते हैं : अंग्रेजी, हिंदी, उर्दू, पंजाबी, बंगला, तमिल, मलयालम, कन्नड़, तेलुगू, मराठी, उड़िया, गुजराती, कोंकणी, मणिपुरी, असमिया, नेपाली, कश्मीरी, संस्कृत और सिंधी।  
कृपया उत्तर-पुस्तिका में दिए गए बॉक्स में लिखें कि आप किस भाषा में उत्तर लिख रहे हैं।  
(ख) यदि आप हिंदी एवं अंग्रेजी के अतिरिक्त किसी अन्य भाषा में उत्तर लिखते हैं, तो प्रश्नों को समझने में होने वाली त्रुटियों/गलतियों की जिम्मेदारी केवल आपकी होगी।



**SOCIAL SCIENCE**  
**(सामाजिक विज्ञान)**  
**(213)**

Time : 3 Hours]

[Maximum Marks : 100

समय : 3 घण्टे]

[पूर्णांक : 100

**Note :** (1) All questions are **compulsory** and carry marks as indicated against each question.

(2) For Multiple Choice Questions **four** options are given. You have to choose right option and indicate it in your answer book.

(3) Attach the map with answer sheet.

**निर्देश :** (1) **सभी** प्रश्न **अनिवार्य** हैं और प्रत्येक प्रश्न के अंक उसके सामने दिये गये हैं।

(2) बहुविकल्पीय प्रश्नों के **चार** विकल्प दिये गये हैं। आप सही विकल्प चुनिये और अपनी उत्तर-पुस्तिका में लिखिये।

(3) दिये गये रेखा मानचित्र को अपनी उत्तर-पुस्तिका के साथ संलग्न कीजिए।

1. According to the census 2011 which one of the following states has the lowest sex ratio? [1]

(A) Haryana

(B) Bihar

(C) Jharkhand

(D) Madhya Pradesh

2011 की जनगणना के अनुसार निम्नलिखित राज्यों में से किसका सबसे कम लिंगानुपात है?

(A) हरियाणा

(B) बिहार

(C) झारखंड

(D) मध्यप्रदेश



2. 'The Sarkaria Commission' is associated with which one of the following. [1]

- (A) Executive and Judiciary
- (B) Legislature and Executive
- (C) Centre and Local self government
- (D) Centre and States

‘सरकारिया आयोग’ का संबंध निम्नलिखित में से किससे है?

- (A) कार्यपालिका तथा न्यायपालिका
- (B) व्यवस्थापिका तथा कार्यपालिका
- (C) स्थानीय स्वशासन तथा केन्द्र
- (D) केन्द्र तथा राज्यों के बीच

3. Who were known as 'Pharaohs'? [1]

- (A) Egyptian Kings
- (B) Indian Kings
- (C) Chinese Kings
- (D) Greek Kings

निम्नलिखित में से किन्हें फराआ कहा जाता था?

- (A) मिस्र राजाओं को
- (B) भारतीय राजाओं को
- (C) चीनी राजाओं को
- (D) यूनानी राजाओं को



4. Who among the following was the first elected President of 'Indian National Congress'?

[1]

(A) Lala Lajpat Rai

(B) Surendranath Banerjee

(C) Gopal Krishna Gokhale

(D) Womesh Chandra Banerjee

निम्नलिखित में से कौन 'भारतीय राष्ट्रीय कांग्रेस' के प्रथम अध्यक्ष चुने गए थे?

(A) लाला लाजपतराय

(B) सुरेन्द्रनाथ बनर्जी

(C) गोपाल कृष्ण गोखले

(D) वामेश चंद्र बनर्जी

5. Explain any two characteristics of 'Bhakti Movement' during Medieval Period.

[2×1=2]

मध्यकाल के दौरान 'भक्ति आंदोलन' की किन्हीं दो विशेषताओं की व्याख्या कीजिए।

6. Mention any two accomplishments made in the field of astronomy during the renaissance.

[2×1=2]

पुनर्जागरण के दौरान खगोल विज्ञान के क्षेत्र में प्राप्त हुई किन्हीं दो उपलब्धियों का उल्लेख कीजिए।

7. Explain the relationship between rights and duties.

[2]

'अधिकारों एवं कर्तव्यों' के बीच संबंध को स्पष्ट कीजिए।

8. Describe any two features of 'Western Ghats'.

[2]

'पश्चिमी घाट' की किन्हीं दो विशेषताओं का वर्णन कीजिए।



9. Mention any four provisions of the permanent settlement in Bengal and Bihar introduced by Lord Cornwallis in 1793. [4]

लार्ड कोर्नेवालिस द्वारा 1793 में बंगाल और बिहार में शुरू किए गए 'स्थाई बंदोबस्त' के किन्हीं चार प्रावधानों का उल्लेख कीजिए।

10. Explain the contribution of Raja Ram Mohan Roy as the prominent social reformer of the 19<sup>th</sup> century. [5]

19 वीं सदी के प्रमुख समाज सुधारक के रूप में राजाराम मोहन राय द्वारा किए गए प्रयासों का व्याख्या कीजिए।

11. Why did the British pressurised the cultivation of indigo in India? Explain the reasons for discontent of the farmers for the same. [1+3=4]

अंग्रेजों ने भारत में नील की खेती पर बल क्यों दिया? किसानों में इसके असंतोष के कारणों को स्पष्ट कीजिए।

12. Describe any four factors affecting the climate of India. [1×4=4]

भारत की जलवायु को प्रभावित करने वाले किन्हीं चार कारकों का वर्णन कीजिए।

13. Explain any four causes for the declining of 'Indus Valley Civilisation'. [1×4=4]

'सिंधु घाटी सभ्यता' के पतन के किन्हीं चार कारणों को स्पष्ट कीजिए।

14. How do the roads contribute in the social and economic growth of a country? Explain any four reasons. [1×4=4]

सड़कें किस प्रकार देश के सामाजिक और आर्थिक विकास में योगदान देती हैं? किन्हीं चार कारणों की व्याख्या कीजिए।



15. Define 'density of population'. Explain the physical factors affecting the density of population. [1+3=4]

‘जनघनत्व’ को परिभाषित कीजिए। जनघनत्व को प्रभावित करने वाले प्राकृतिक कारकों की व्याख्या कीजिए।

16. Define 'Directive Principles of State Policy'. Explain its any three characteristics. [1+3=4]

‘राज्य के नीति निदेशक तत्व’ को परिभाषित कीजिए। इसकी किन्हीं तीन विशेषताओं को स्पष्ट कीजिए।

17. Describe any four features of 'Gram Panchayat'. [1×4=4]

‘ग्राम पंचायत’ के किन्हीं चार कार्यों का वर्णन कीजिए।

18. "The Chief Minister is the head of the government in the state and he/she plays a very important role". Support the statement with examples. [4]

“राज्य में मुख्यमंत्री सरकार का प्रमुख होता है और वह बहुत महत्वपूर्ण भूमिका निभाता है।” इस कथन की उदाहरणों सहित पुष्टि कीजिए।

19. Describe the executive powers of the President of India. [4]

भारत के राष्ट्रपति की कार्यकारी शक्तियों का वर्णन कीजिए।

20. "In the democratic countries, political parties are considered as essential component for the formation and working of the government". Support the statement. [4]

“लोकतांत्रिक देशों में सरकार का गठन एवं संचालन के लिए राजनीतिक दलों को आवश्यक घटक के रूप में माना जाता है।” इस कथन की पुष्टि कीजिए।



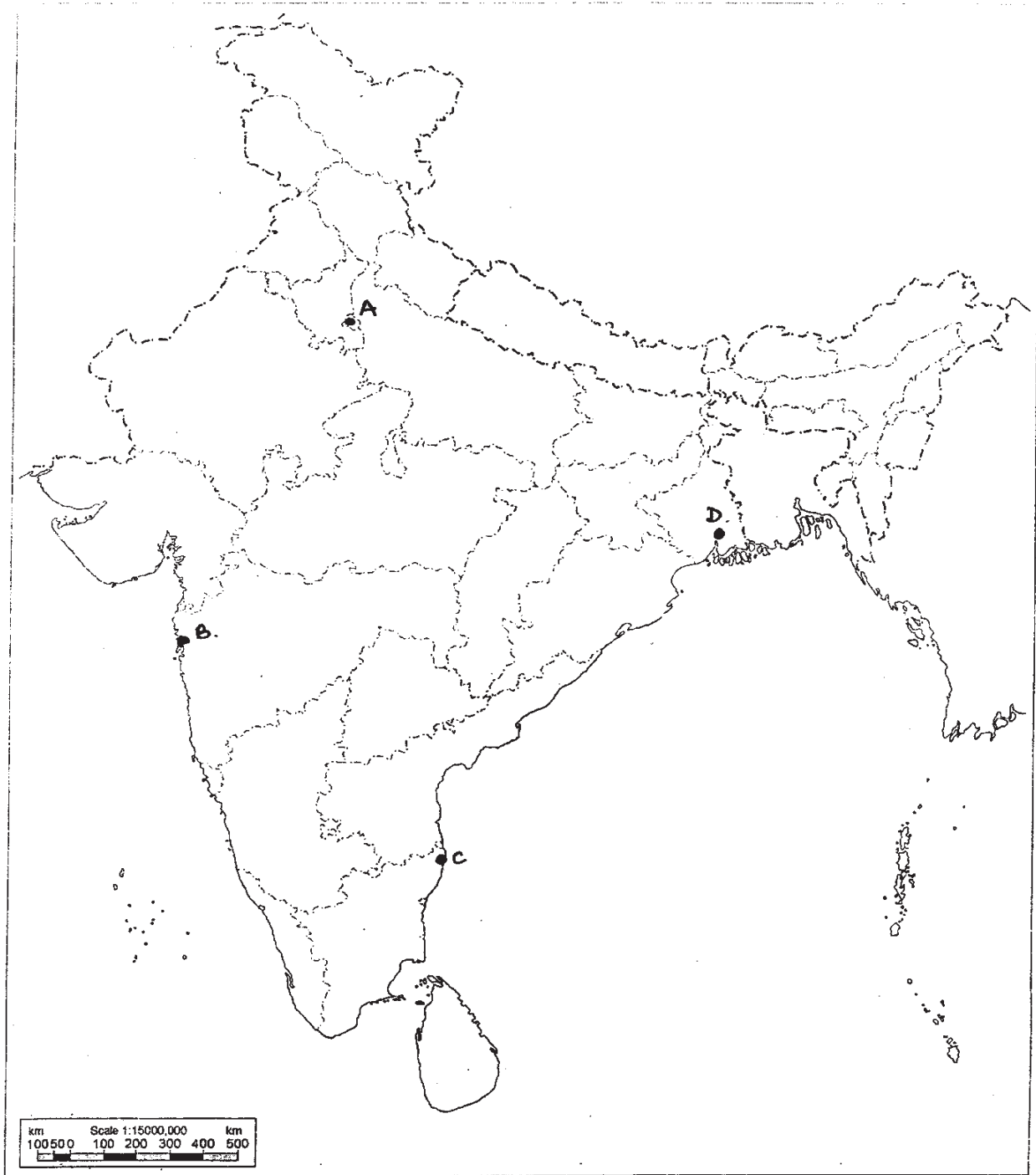
21. Why is national integration essential for India? Explain. [4]  
भारत के लिए 'राष्ट्रीय समाकलन' आवश्यक क्यों है? स्पष्ट कीजिए।
22. "Socio-economic development is a process of improvement in a variety of ways" support the statement with examples. [4]  
"सामाजिक आर्थिक विकास विभिन्न आयामों में सुधार की प्रक्रिया है।" इस कथन की उदाहरणों सहित पुष्टि कीजिए।
23. "Human made environment has been undergoing changes over a period of time and space" support the statement. [4]  
"मानव-निर्मित पर्यावरण समय और स्थान के साथ बदलता रहता है।" इस कथन की उदाहरणों सहित पुष्टि कीजिए।
24. Describe the social and economic changes brought by the Industrial Revolution in the 18<sup>th</sup> century. [4]  
18 वीं शताब्दी में 'औद्योगिक क्रांति' के द्वारा लाए गए सामाजिक एवं आर्थिक परिवर्तनों का वर्णन कीजिए।
25. How did the First-World-War influence India? Explain. [5]  
'प्रथम विश्व युद्ध' ने भारत को किस प्रकार प्रभावित किया? स्पष्ट कीजिए।
26. Describe any five features of Indian agriculture. [5]  
भारतीय कृषि की किन्हीं पांच विशेषताओं का वर्णन कीजिए।
27. Why is there a need of electoral reforms in India? Explain. [5]  
भारत में चुनाव सुधारों की आवश्यकता को स्पष्ट कीजिए।





28. Identify and write in your answer-book the correct names of international airports marked as A, B, C and D in the given political outline map of India.[4]

दिए गए भारत के राजनीतिक रेखामानचित्र में अंतर्राष्ट्रीय वायु पत्तनों को A, B, C तथा D से दर्शाया गया है। इन्हें पहचानिए तथा उनके सही नाम अपनी उत्तर-पुस्तिका में लिखिए।



29. In the given political outline map of India, locate and label the following with appropriate symbols : [4]

- (i) Lakshadweeps
- (ii) Narmada River
- (iii) Area above 200cm Rainfall
- (iv) Gir-National Park

दिए गए भारत के राजनीतिक रेखामानचित्र में निम्नलिखित को उपयुक्त चिह्नों से दर्शाइए और उनके नाम लिखिए।

- (i) लक्ष्यद्वीप
- (ii) नर्मदा-नदी
- (iii) 200 से.मी. से अधिक वर्षा क्षेत्र
- (iv) गिर राष्ट्रीय उद्यान

**Note :** The following questions are for the visually impaired candidates only in lieu of question No. 28 and 29. Answer to each of these questions must not be in more than one sentence. [2×4=8]

- (A) Name two wildlife sanctuaries of Assam.
- (B) Name any two tea producing states of India.
- (C) Name any two hills of Meghalaya.
- (D) Name any two major rivers of Peninsular India.

**निर्देश :** निम्नलिखित प्रश्न केवल दृष्टिबाधित परीक्षार्थियों के लिए प्रश्न संख्या 28 तथा 29 के स्थान पर हैं। इन प्रश्नों में से प्रत्येक का उत्तर मात्र एक वाक्य में लिखिए।

- (A) असम के दो वन्यजीव अभयारण्य का नाम लिखिए।
- (B) भारत के किन्हीं दो चाय उत्पादक राज्यों का नाम लिखिए।
- (C) मेघालय की किन्हीं दो पहाड़ियों के नाम लिखिए।
- (D) प्रायद्वीपीय भारत की किन्हीं दो प्रमुख नदियों के नाम लिखिए।

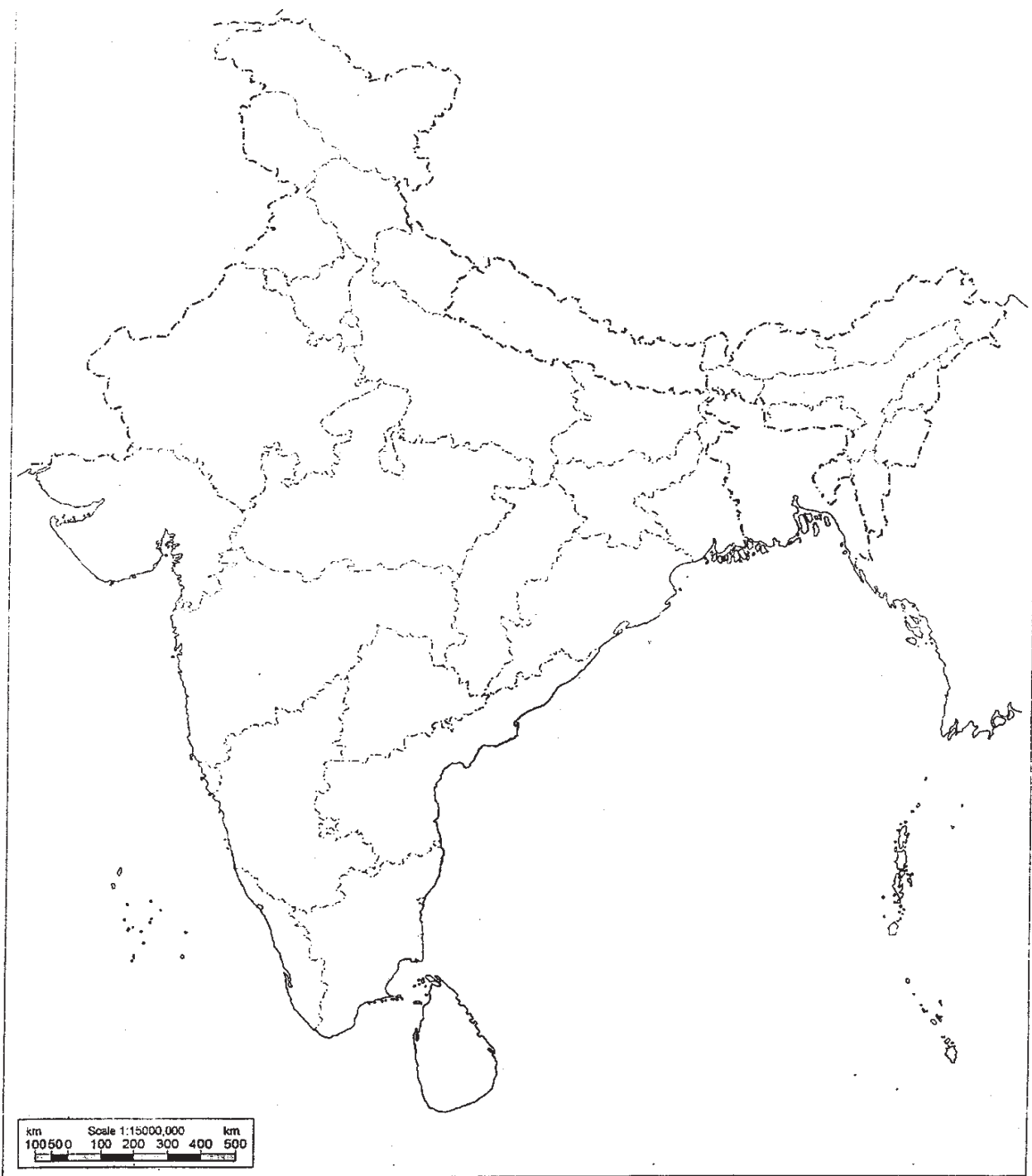


Q. No. 29  
प्र. संख्या 29

Roll No.  
अनुक्रमांक

--	--	--	--	--	--	--	--	--	--	--	--	--	--	--

भारत का रेखा-मानचित्र (राजनीतिक)  
Outline Map of India (Political)



This Question Paper consists of 29 questions and 10 printed pages + one outline map of India.

इस प्रश्न-पत्र में 29 प्रश्न तथा 10 मुद्रित पृष्ठ + भारत का एक रेखा-मानचित्र है।

Sl. No.

Roll No.  
अनुक्रमांक

--	--	--	--	--	--	--	--	--	--	--	--	--	--	--	--	--	--	--	--	--

Code No.  
कोड नं.

**63/OS/1**

**SOCIAL SCIENCE**

**(सामाजिक विज्ञान)**

Set /सेट

**B**

**(213)**

Day and Date of Examination :

(परीक्षा का दिन व दिनांक)

Signature of Invigilators : 1.

(निरीक्षकों के हस्ताक्षर)

2.

General Instructions :

1. Candidate must write his/her Roll Number on the first page of the Question Paper.
2. Please check the Question Paper to verify that the total pages and the total number of questions contained in the Question Paper are the same as those printed on the top of the first page. Also check to see that the questions are in sequential order.
3. For the objective type of questions, you have to choose any **one** of the four alternatives given in the question i.e. (A), (B), (C) and (D) and indicate your correct answer in the Answer-Book given to you.
4. All the questions including objective type questions are to be answered within the allotted time and no separate time limit is fixed for answering objective type questions.
5. Making any identification mark in the Answer-Book or writing Roll Number anywhere other than the specified places will lead to disqualification of the candidate.
6. Write your Question Paper Code No. **63/OS/1, Set - B** on the Answer-Book.
7. (a) The Question Paper is in English/Hindi medium only. However, if you wish, you can answer in any **one** of the languages listed below :  
English, Hindi, Urdu, Punjabi, Bengali, Tamil, Malayalam, Kannada, Telugu, Marathi, Odia, Gujarati, Konkani, Manipuri, Assamese, Nepali, Kashmiri, Sanskrit and Sindhi.  
You are required to indicate the language you have chosen to answer in the box provided in the Answer-Book.
- (b) If you choose to write the answer in the language other than Hindi and English, the responsibility for any errors/mistakes in understanding the questions will be yours only.

**63/OS/1-213-B]**

**G-940**

**1**



[ Contd.....

**सामान्य अनुदेश :**

1. परीक्षार्थी प्रश्न-पत्र के पहले पृष्ठ पर अपना अनुक्रमांक अवश्य लिखें।
2. कृपया प्रश्न-पत्र को जाँच लें कि प्रश्न-पत्र के कुल पृष्ठों तथा प्रश्नों की उतनी ही संख्या है जितनी प्रथम पृष्ठ के सबसे ऊपर छपी है। इस बात की जाँच भी कर लें कि प्रश्न क्रमिक रूप में हैं।
3. वस्तुनिष्ठ प्रश्नों में आपको चार विकल्पों (A), (B), (C) तथा (D) में से **कोई एक** उत्तर चुनना है तथा दी गई उत्तर-पुस्तिका में आप सही उत्तर लिखिए।
4. वस्तुनिष्ठ प्रश्नों के साथ-साथ सभी प्रश्नों के उत्तर निर्धारित अवधि के भीतर ही देने हैं। वस्तुनिष्ठ प्रश्नों के लिए अलग से समय नहीं दिया जाएगा।
5. उत्तर-पुस्तिका में पहचान-चिह्न बनाने अथवा निर्दिष्ट स्थानों के अतिरिक्त कहीं भी अनुक्रमांक लिखने पर परीक्षार्थी को अयोग्य ठहराया जायेगा।
6. अपनी उत्तर-पुस्तिका पर प्रश्न-पत्र की कोड संख्या **63/OS/1**, सेट - **B** लिखें।
7. (क) प्रश्न-पत्र केवल अंग्रेजी/हिंदी माध्यम में है। फिर भी, यदि आप चाहें तो नीचे दी गई किसी एक भाषा में उत्तर दे सकते हैं : अंग्रेजी, हिंदी, उर्दू, पंजाबी, बंगला, तमिल, मलयालम, कन्नड़, तेलुगू, मराठी, उड़िया, गुजराती, कोंकणी, मणिपुरी, असमिया, नेपाली, कश्मीरी, संस्कृत और सिंधी।  
  
कृपया उत्तर-पुस्तिका में दिए गए बॉक्स में लिखें कि आप किस भाषा में उत्तर लिख रहे हैं।
- (ख) यदि आप हिंदी एवं अंग्रेजी के अतिरिक्त किसी अन्य भाषा में उत्तर लिखते हैं, तो प्रश्नों को समझने में होने वाली त्रुटियों/गलतियों की जिम्मेदारी केवल आपकी होगी।



**SOCIAL SCIENCE**  
**(सामाजिक विज्ञान)**  
**(213)**

Time : 3 Hours]

[Maximum Marks : 100

समय : 3 घण्टे]

[पूर्णांक : 100

- Note :** (1) All questions are **compulsory** and carry marks as indicated against each question.
- (2) For Multiple Choice Questions **four** options are given. You have to choose right option and indicate it in your answer book.
- (3) Attach the map with answer sheet.

- निर्देश :** (1) **सभी** प्रश्न **अनिवार्य** हैं और प्रत्येक प्रश्न के अंक उसके सामने दिये गये हैं।
- (2) बहुविकल्पीय प्रश्नों के **चार** विकल्प दिये गये हैं। आप सही विकल्प चुनिये और अपनी उत्तर-पुस्तिका में लिखिये।
- (3) दिये गये रेखा मानचित्र को अपनी उत्तर-पुस्तिका के साथ संलग्न कीजिए।

1. Who among the following was the first elected President of 'Indian National Congress'?

[1]

- (A) Lala Lajpat Rai
- (B) Surendranath Banerjee
- (C) Gopal Krishna Gokhale
- (D) Womesh Chandra Banerjee

निम्नलिखित में से कौन 'भारतीय राष्ट्रीय कांग्रेस' के प्रथम अध्यक्ष चुने गए थे ?

- (A) लाला लाजपतराय
- (B) सुरेन्द्रनाथ बनर्जी
- (C) गोपाल कृष्ण गोखले
- (D) वोमेश चंद्र बनर्जी



2. According to the census 2011 which one of the following states has the lowest sex ratio? [1]

(A) Haryana

(B) Bihar

(C) Jharkhand

(D) Madhya Pradesh

2011 की जनगणना के अनुसार निम्नलिखित राज्यों में से किसका सबसे कम लिंगानुपात है?

(A) हरियाणा

(B) बिहार

(C) झारखंड

(D) मध्यप्रदेश

3. In which one of the following states 'Dholavira' is located? [1]

(A) Maharashtra

(B) Gujarat

(C) Karnataka

(D) Bihar

निम्नलिखित राज्यों में से 'धौलावीरा' किसमें स्थित है?

(A) महाराष्ट्र

(B) गुजरात

(C) कर्नाटक

(D) बिहार



4. 'The Sarkaria Commission' is associated with which one of the following. [1]

- (A) Executive and Judiciary
- (B) Legislature and Executive
- (C) Centre and Local self government
- (D) Centre and States

‘सरकारिया आयोग’ का संबंध निम्नलिखित में से किससे है?

- (A) कार्यपालिका तथा न्यायपालिका
- (B) व्यवस्थापिका तथा कार्यपालिका
- (C) स्थानीय स्वशासन तथा केन्द्र
- (D) केन्द्र तथा राज्यों के बीच

5. How did the coming of Mughals marked as a new era in the Indian history? Explain. [2]

मुगलों के आगमन ने भारत में किस प्रकार एक नए युग की शुरुआत की? स्पष्ट कीजिए।

6. Describe any two features of 'Western Ghats'. [2]

‘पश्चिमी घाट’ की किन्हीं दो विशेषताओं का वर्णन कीजिए।

7. Mention any two accomplishments made in the field of astronomy during the renaissance. [2×1=2]

पुनर्जागरण के दौरान खगोल विज्ञान के क्षेत्र में प्राप्त हुई किन्हीं दो उपलब्धियों का उल्लेख कीजिए।





8. Explain the relationship between rights and duties. [2]  
‘अधिकारों एवं कर्तव्यों’ के बीच संबंध को स्पष्ट कीजिए।
9. Describe ill-effects of the imported British textiles on the Indian weavers. [4]  
ब्रिटेन से आयातित वस्त्रों का भारतीय बुनकरों पर पड़े बुरे प्रभावों का वर्णन कीजिए।
10. "Human made environment has been undergoing changes over a period of time and space" support the statement. [4]  
“मानव-निर्मित पर्यावरण समय और स्थान के साथ बदलता रहता है।” इस कथन की उदाहरणों सहित पुष्टि कीजिए।
11. "Socio-economic development is a process of improvement in a variety of ways" support the statement with examples. [4]  
“सामाजिक आर्थिक विकास विभिन्न आयामों में सुधार की प्रक्रिया है।” इस कथन की उदाहरणों सहित पुष्टि कीजिए।
12. Describe any four factors affecting the climate of India. [4]  
भारत की जलवायु को प्रभावित करने वाले किन्हीं चार कारकों का वर्णन कीजिए।
13. Why is national integration essential for India? Explain. [4]  
भारत के लिए ‘राष्ट्रीय समाकलन’ आवश्यक क्यों है? स्पष्ट कीजिए।
14. "In the democratic countries, political parties are considered as essential component for the formation and working of the government". Support the statement. [4]  
“लोकतांत्रिक देशों में सरकार का गठन एवं संचालन के लिए राजनीतिक दलों को आवश्यक घटक के रूप में माना जाता है।” इस कथन की पुष्टि कीजिए।



15. Describe the executive powers of the President of India. [4]

भारत के राष्ट्रपति की कार्यकारी शक्तियों का वर्णन कीजिए।

16. "The Chief Minister is the head of the government in the state and he/she plays a very important role". Support the statement with examples. [4]

“राज्य में मुख्यमंत्री सरकार का प्रमुख होता है और वह बहुत महत्वपूर्ण भूमिका निभाता है।” इस कथन की उदाहरणों सहित पुष्टि कीजिए।

17. Describe any four functions of the 'Zila Parishad'. [4]

‘जिला परिषद’ के किन्हीं चार प्रमुख कार्यों का वर्णन कीजिए।

18. Explain the contribution of Raja Ram Mohan Roy as the prominent social reformer of the 19<sup>th</sup> century. [5]

19 वीं सदी के प्रमुख समाज सुधारक के रूप में राजाराम मोहन राय द्वारा किए गए प्रयासों का व्याख्या कीजिए।

19. Why did the British pressurised the cultivation of indigo in India? Explain the reasons for discontent of the farmers for the same. [1+3=4]

अंग्रेजों ने भारत में नील की खेती पर बल क्यों दिया? किसानों में इसके असंतोष के कारणों को स्पष्ट कीजिए।

20. Explain any four causes for the declining of 'Indus Valley Civilisation'. [1×4=4]

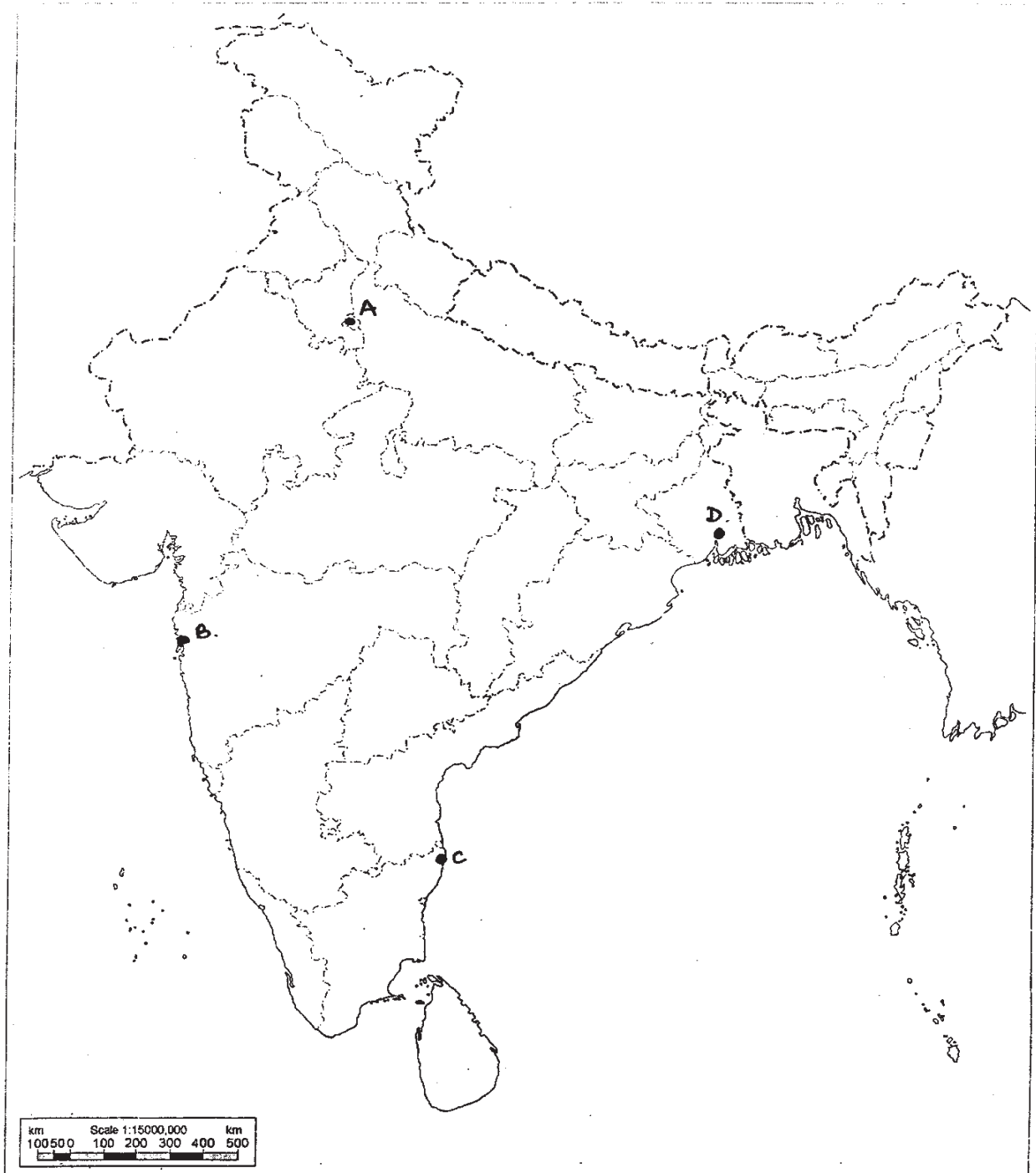
‘सिंधु घाटी सभ्यता’ के पतन के किन्हीं चार कारणों को स्पष्ट कीजिए।



21. How do the roads contribute in the social and economic growth of a country? Explain any four reasons. [1×4=4]  
सडकें किस प्रकार देश के सामाजिक और आर्थिक विकास में योगदान देती हैं? किन्हीं चार कारणों की व्याख्या कीजिए।
22. Define 'density of population'. Explain the physical factors affecting the density of population. [1+3=4]  
'जनघनत्व' को परिभाषित कीजिए। जनघनत्व को प्रभावित करने वाले प्राकृतिक कारकों की व्याख्या कीजिए।
23. Define 'Directive Principles of State Policy'. Explain its any three characteristics. [1+3=4]  
'राज्य के नीति निदेशक तत्व' को परिभाषित कीजिए। इसकी किन्हीं तीन विशेषताओं को स्पष्ट कीजिए।
24. How did the First-World-War influence India? Explain. [5]  
'प्रथम विश्व युद्ध' ने भारत को किस प्रकार प्रभावित किया? स्पष्ट कीजिए।
25. Describe the social and economic changes brought by the Industrial Revolution in the 18<sup>th</sup> century. [4]  
18 वी शताब्दी में 'औद्योगिक क्रांति' के द्वारा लाए गए सामाजिक एवं आर्थिक परिवर्तनों का वर्णन कीजिए।
26. Describe any five features of 'Commercial Farming' in India. [5]  
भारत में 'वाणिज्य कृषि' की किन्हीं पांच विशेषताओं का वर्णन कीजिए।
27. How do elections provide opportunities to the people to participate actively in the democracies? Explain. [5]  
चुनाव किस प्रकार लोगों को लोकतंत्र में सक्रिय रूप से सहभागी होने का अवसर प्रदान करते हैं? स्पष्ट कीजिए।



28. Identify and write in your answer-book the correct names of international airports marked as A, B, C and D in the given political outline map of India.[4]  
दिए गए भारत के राजनीतिक रेखामानचित्र में अंतर्राष्ट्रीय वायु पत्तनों को A, B, C तथा D से दर्शाया गया है। इन्हें पहचानिए तथा उनके सही नाम अपनी उत्तर-पुस्तिका में लिखिए।



29. In the given political outline map of India, locate and label the following with appropriate symbols : [4]

- (i) Lakshadweeps
- (ii) Narmada River
- (iii) Area above 200cm Rainfall
- (iv) Gir-National Park

दिए गए भारत के राजनीतिक रेखामानचित्र में निम्नलिखित को उपयुक्त चिह्नों से दर्शाइए और उनके नाम लिखिए।

- (i) लक्ष्यद्वीप
- (ii) नर्मदा-नदी
- (iii) 200 से.मी. से अधिक वर्षा क्षेत्र
- (iv) गिर राष्ट्रीय उद्यान

**Note :** The following questions are for the visually impaired candidates only in lieu of question No. 28 and 29. Answer to each of these questions must not be in more than one sentence. [2×4=8]

- (A) Name two wildlife sanctuaries of Assam.
- (B) Name any two tea producing states of India.
- (C) Name any two hills of Meghalaya.
- (D) Name any two major rivers of Peninsular India.

**निर्देश :** निम्नलिखित प्रश्न केवल दृष्टिबाधित परीक्षार्थियों के लिए प्रश्न संख्या 28 तथा 29 के स्थान पर हैं। इन प्रश्नों में से प्रत्येक का उत्तर मात्र एक वाक्य में लिखिए।

- (A) असम के दो वन्यजीव अभयारण्य का नाम लिखिए।
- (B) भारत के किन्हीं दो चाय उत्पादक राज्यों का नाम लिखिए।
- (C) मेघालय की किन्हीं दो पहाड़ियों के नाम लिखिए।
- (D) प्रायद्वीपीय भारत की किन्हीं दो प्रमुख नदियों के नाम लिखिए।

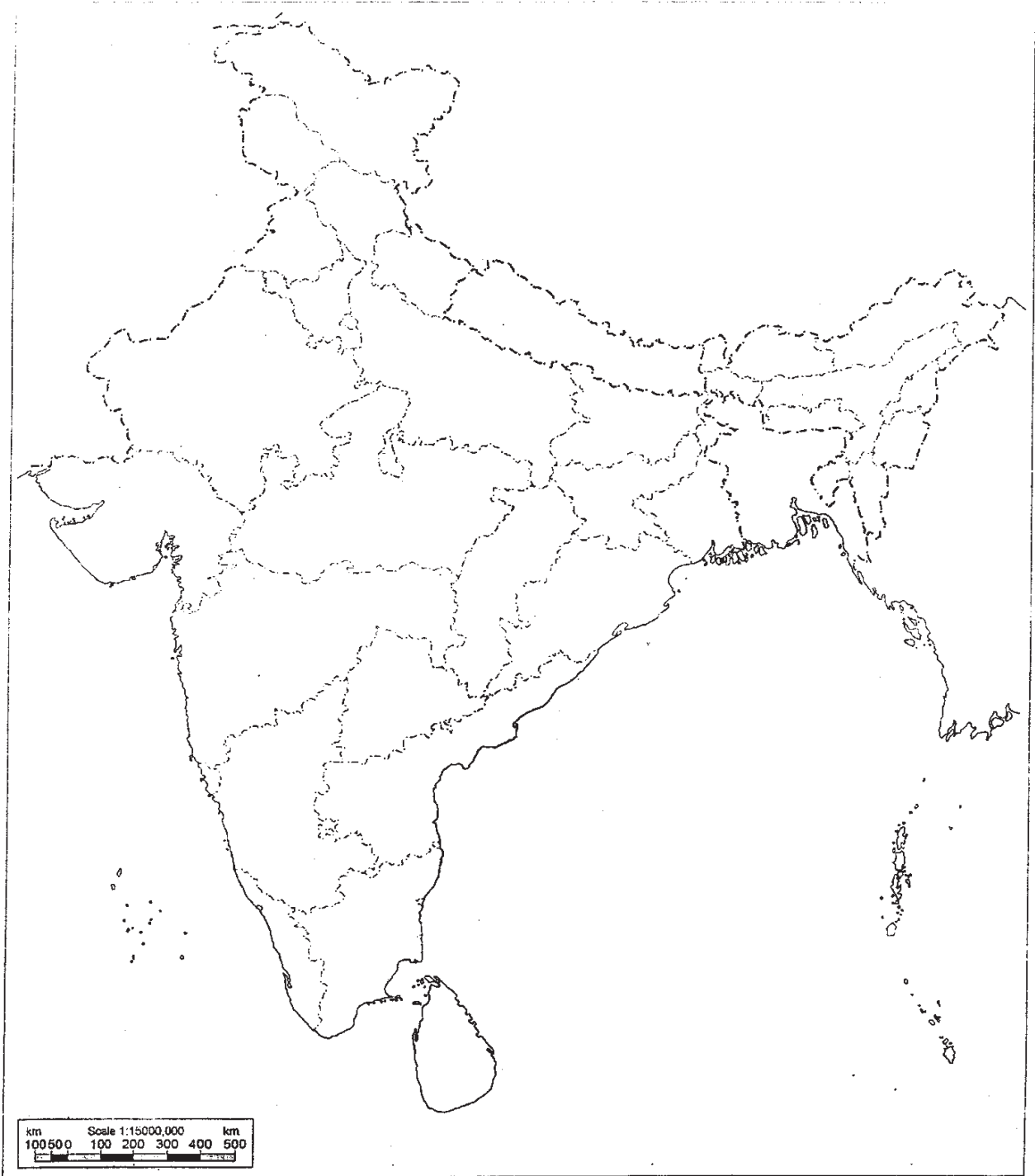


Q. No. 29  
प्र. संख्या 29

Roll No.  
अनुक्रमांक

--	--	--	--	--	--	--	--	--	--	--	--	--	--	--

भारत का रेखा-मानचित्र (राजनीतिक)  
Outline Map of India (Political)





**सामान्य अनुदेश :**

1. परीक्षार्थी प्रश्न-पत्र के पहले पृष्ठ पर अपना अनुक्रमांक अवश्य लिखें।
2. कृपया प्रश्न-पत्र को जाँच लें कि प्रश्न-पत्र के कुल पृष्ठों तथा प्रश्नों की उतनी ही संख्या है जितनी प्रथम पृष्ठ के सबसे ऊपर छपी है। इस बात की जाँच भी कर लें कि प्रश्न क्रमिक रूप में हैं।
3. वस्तुनिष्ठ प्रश्नों में आपको चार विकल्पों (A), (B), (C) तथा (D) में से **कोई एक** उत्तर चुनना है तथा दी गई उत्तर-पुस्तिका में आप सही उत्तर लिखिए।
4. वस्तुनिष्ठ प्रश्नों के साथ-साथ सभी प्रश्नों के उत्तर निर्धारित अवधि के भीतर ही देने हैं। वस्तुनिष्ठ प्रश्नों के लिए अलग से समय नहीं दिया जाएगा।
5. उत्तर-पुस्तिका में पहचान-चिह्न बनाने अथवा निर्दिष्ट स्थानों के अतिरिक्त कहीं भी अनुक्रमांक लिखने पर परीक्षार्थी को अयोग्य ठहराया जायेगा।
6. अपनी उत्तर-पुस्तिका पर प्रश्न-पत्र की कोड संख्या **63/OS/1**, सेट - **C** लिखें।
7. (क) प्रश्न-पत्र केवल अंग्रेजी/हिंदी माध्यम में है। फिर भी, यदि आप चाहें तो नीचे दी गई किसी एक भाषा में उत्तर दे सकते हैं : अंग्रेजी, हिंदी, उर्दू, पंजाबी, बंगला, तमिल, मलयालम, कन्नड़, तेलुगू, मराठी, उड़िया, गुजराती, कोंकणी, मणिपुरी, असमिया, नेपाली, कश्मीरी, संस्कृत और सिंधी।  
कृपया उत्तर-पुस्तिका में दिए गए बॉक्स में लिखें कि आप किस भाषा में उत्तर लिख रहे हैं।  
(ख) यदि आप हिंदी एवं अंग्रेजी के अतिरिक्त किसी अन्य भाषा में उत्तर लिखते हैं, तो प्रश्नों को समझने में होने वाली त्रुटियों/गलतियों की जिम्मेदारी केवल आपकी होगी।





**SOCIAL SCIENCE**  
**(सामाजिक विज्ञान)**  
**(213)**

Time : 3 Hours]

[Maximum Marks : 100

समय : 3 घण्टे]

[पूर्णांक : 100

- Note :** (1) All questions are **compulsory** and carry marks as indicated against each question.
- (2) For Multiple Choice Questions **four** options are given. You have to choose right option and indicate it in your answer book.
- (3) Attach the map with answer sheet.

- निर्देश:** (1) **सभी** प्रश्न **अनिवार्य** हैं और प्रत्येक प्रश्न के अंक उसके सामने दिये गये हैं।
- (2) बहुविकल्पीय प्रश्नों के **चार** विकल्प दिये गये हैं। आप सही विकल्प चुनिये और अपनी उत्तर-पुस्तिका में लिखिये।
- (3) दिये गये रेखा मानचित्र को अपनी उत्तर-पुस्तिका के साथ संलग्न कीजिए।

1. 'The Sarkaria Commission' is associated with which one of the following. [1]

- (A) Executive and Judiciary
- (B) Legislature and Executive
- (C) Centre and Local self government
- (D) Centre and States

‘सरकारिया आयोग’ का संबंध निम्नलिखित में से किससे है?

- (A) कार्यपालिका तथा न्यायपालिका
- (B) व्यवस्थापिका तथा कार्यपालिका
- (C) स्थानीय स्वशासन तथा केन्द्र
- (D) केन्द्र तथा राज्यों के बीच



2. Who among the following was the first elected President of 'Indian National Congress'?

[1]

- (A) Lala Lajpat Rai
- (B) Surendranath Banerjee
- (C) Gopal Krishna Gokhale
- (D) Womesh Chandra Banerjee

निम्नलिखित में से कौन 'भारतीय राष्ट्रीय कांग्रेस' के प्रथम अध्यक्ष चुने गए थे?

- (A) लाला लाजपतराय
- (B) सुरेन्द्रनाथ बनर्जी
- (C) गोपाल कृष्ण गोखले
- (D) वोमेश चंद्र बनर्जी

3. Which one of the following states 'Kalibangan' is located?

[1]

- (A) Punjab
- (B) Gujarat
- (C) Haryana
- (D) Rajasthan

निम्नलिखित राज्यों में से 'कालीबंगा' किसमें स्थित है?

- (A) पंजाब
- (B) गुजरात
- (C) हरियाणा
- (D) राजस्थान



4. According to the census 2011 which one of the following states has the lowest sex ratio? [1]

(A) Haryana

(B) Bihar

(C) Jharkhand

(D) Madhya Pradesh

2011 की जनगणना के अनुसार निम्नलिखित राज्यों में से किसका सबसे कम लिंगानुपात है?

(A) हरियाणा

(B) बिहार

(C) झारखंड

(D) मध्यप्रदेश

5. Explain any two causes of declining of the 'Roman Empire'. [2]

‘रोमन साम्राज्य’ के पतन के किन्हीं दो कारणों को स्पष्ट कीजिए।

6. Explain the relationship between rights and duties. [2]

‘अधिकारों एवं कर्तव्यों’ के बीच संबंध को स्पष्ट कीजिए।

7. Describe any two features of 'Western Ghats'. [2]

‘पश्चिमी घाट’ की किन्हीं दो विशेषताओं का वर्णन कीजिए।

8. Mention any two accomplishments made in the field of astronomy during the renaissance. [2×1=2]

पुनर्जागरण के दौरान खगोल विज्ञान के क्षेत्र में प्राप्त हुई किन्हीं दो उपलब्धियों का उल्लेख कीजिए।



9. Describe any four advantages of railway network set up by the British in India.

[1×4=4]

भारत में अंग्रेजों द्वारा स्थापित 'रेल्वे नेटवर्क' के निर्माण से होने वाले किन्हीं चार लाभों का वर्णन कीजिए।

10. "The Chief Minister is the head of the government in the state and he/she plays a very important role". Support the statement with examples. [4]

“राज्य में मुख्यमंत्री सरकार का प्रमुख होता है और वह बहुत महत्वपूर्ण भूमिका निभाता है।” इस कथन की उदाहरणों सहित पुष्टि कीजिए।

11. Describe the executive powers of the President of India. [4]

भारत के राष्ट्रपति की कार्यकारी शक्तियों का वर्णन कीजिए।

12. Describe any four features of 'advancing South-West Monsoon in the months of June to September in India. [1×4=4]

भारत में जून से सितंबर महीनों में आगे बढ़ते दक्षिण-पश्चिम मानसून की किन्हीं चार दशाओं का वर्णन कीजिए।

13. Explain the contribution of Raja Ram Mohan Roy as the prominent social reformer of the 19<sup>th</sup> century. [5]

19 वीं सदी के प्रमुख समाज सुधारक के रूप में राजाराम मोहन राय द्वारा किए गए प्रयासों का व्याख्या कीजिए।

14. Why did the British pressurised the cultivation of indigo in India? Explain the reasons for discontent of the farmers for the same. [1+3=4]

अंग्रेजों ने भारत में नील की खेती पर बल क्यों दिया? किसानों में इसके असंतोष के कारणों को स्पष्ट कीजिए।



15. "Socio-economic development is a process of improvement in a variety of ways" support the statement with examples. [4]

“सामाजिक आर्थिक विकास विभिन्न आयामों में सुधार की प्रक्रिया है।” इस कथन की उदाहरणों सहित पुष्टि कीजिए।

16. "Human made environment has been undergoing changes over a period of time and space" support the statement. [4]

“मानव-निर्मित पर्यावरण समय और स्थान के साथ बदलता रहता है।” इस कथन की उदाहरणों सहित पुष्टि कीजिए।

17. Describe any four functions of 'Municipal Council'. [4]

‘नगर परिषद’ के किन्हीं चार कार्यों का वर्णन कीजिए।

18. Explain any four causes for the declining of 'Indus Valley Civilisation'. [1×4=4]

‘सिंधु घाटी सभ्यता’ के पतन के किन्हीं चार कारणों को स्पष्ट कीजिए।

19. How do the roads contribute in the social and economic growth of a country? Explain any four reasons. [1×4=4]

सड़कें किस प्रकार देश के सामाजिक और आर्थिक विकास में योगदान देती हैं? किन्हीं चार कारणों की व्याख्या कीजिए।

20. Define 'density of population'. Explain the physical factors affecting the density of population. [1+3=4]

‘जनघनत्व’ को परिभाषित कीजिए। जनघनत्व को प्रभावित करने वाले प्राकृतिक कारकों की व्याख्या कीजिए।



21. Define 'Directive Principles of State Policy'. Explain its any three characteristics. [1+3=4]

‘राज्य के नीति निदेशक तत्व’ को परिभाषित कीजिए। इसकी किन्हीं तीन विशेषताओं को स्पष्ट कीजिए।

22. "In the democratic countries, political parties are considered as essential component for the formation and working of the government". Support the statement. [4]

“लोकतांत्रिक देशों में सरकार का गठन एवं संचालन के लिए राजनीतिक दलों को आवश्यक घटक के रूप में माना जाता है।” इस कथन की पुष्टि कीजिए।

23. Why is national integration essential for India? Explain. [4]

भारत के लिए ‘राष्ट्रीय समाकलन’ आवश्यक क्यों है? स्पष्ट कीजिए।

24. Describe the social and economic changes brought by the Industrial Revolution in the 18<sup>th</sup> century. [4]

18 वी शताब्दी में ‘औद्योगिक क्रांति’ के द्वारा लाए गए सामाजिक एवं आर्थिक परिवर्तनों का वर्णन कीजिए।

25. How did the First-World-War influence India? Explain. [5]

‘प्रथम विश्व युद्ध’ ने भारत को किस प्रकार प्रभावित किया? स्पष्ट कीजिए।

26. Describe any five challenges faced by Indian agriculture. [5]

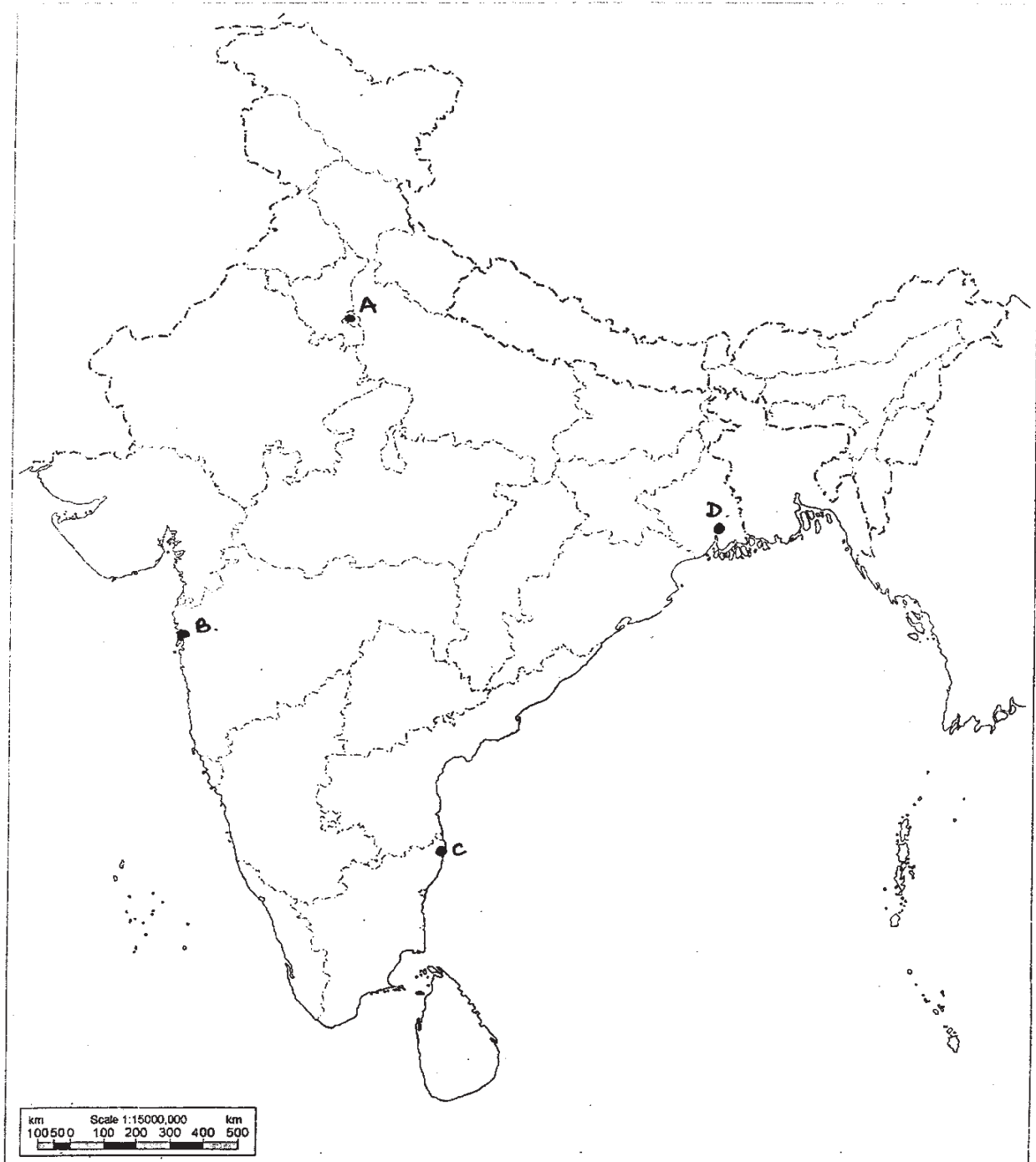
भारतीय कृषि के सामने किन्हीं पाँच चुनौतियों का वर्णन कीजिए।

27. The 'election commission' has taken several new initiatives in the recent past in India. Analyse any five of them. [5]

निकट अतीत में ‘निर्वाचन आयोग’ ने भारत में कई नई पहल की हैं। उनमें से किन्हीं पाँच का विश्लेषण कीजिए।



28. Identify and write in your answer-book the correct names of international airports marked as A, B, C and D in the given political outline map of India.[4]  
दिए गए भारत के राजनीतिक रेखामानचित्र में अंतर्राष्ट्रीय वायु पत्तनों को A, B, C तथा D से दर्शाया गया है। इन्हें पहचानिए तथा उनके सही नाम अपनी उत्तर-पुस्तिका में लिखिए।



29. In the given political outline map of India, locate and label the following with appropriate symbols : [4]

- (i) Lakshadweeps
- (ii) Narmada River
- (iii) Area above 200cm Rainfall
- (iv) Gir-National Park

दिए गए भारत के राजनीतिक रेखामानचित्र में निम्नलिखित को उपयुक्त चिह्नों से दर्शाइए और उनके नाम लिखिए।

- (i) लक्ष्यद्वीप
- (ii) नर्मदा-नदी
- (iii) 200 से.मी. से अधिक वर्षा क्षेत्र
- (iv) गिर राष्ट्रीय उद्यान

**Note :** The following questions are for the visually impaired candidates only in lieu of question No. 28 and 29. Answer to each of these questions must not be in more than one sentence. [2×4=8]

- (A) Name two wildlife sanctuaries of Assam.
- (B) Name any two tea producing states of India.
- (C) Name any two hills of Meghalaya.
- (D) Name any two major rivers of Peninsular India.

**निर्देश :** निम्नलिखित प्रश्न केवल दृष्टिबाधित परीक्षार्थियों के लिए प्रश्न संख्या 28 तथा 29 के स्थान पर हैं। इन प्रश्नों में से प्रत्येक का उत्तर मात्र एक वाक्य में लिखिए।

- (A) असम के दो वन्यजीव अभयारण्य का नाम लिखिए।
- (B) भारत के किन्हीं दो चाय उत्पादक राज्यों का नाम लिखिए।
- (C) मेघालय की किन्हीं दो पहाड़ियों के नाम लिखिए।
- (D) प्रायद्वीपीय भारत की किन्हीं दो प्रमुख नदियों के नाम लिखिए।



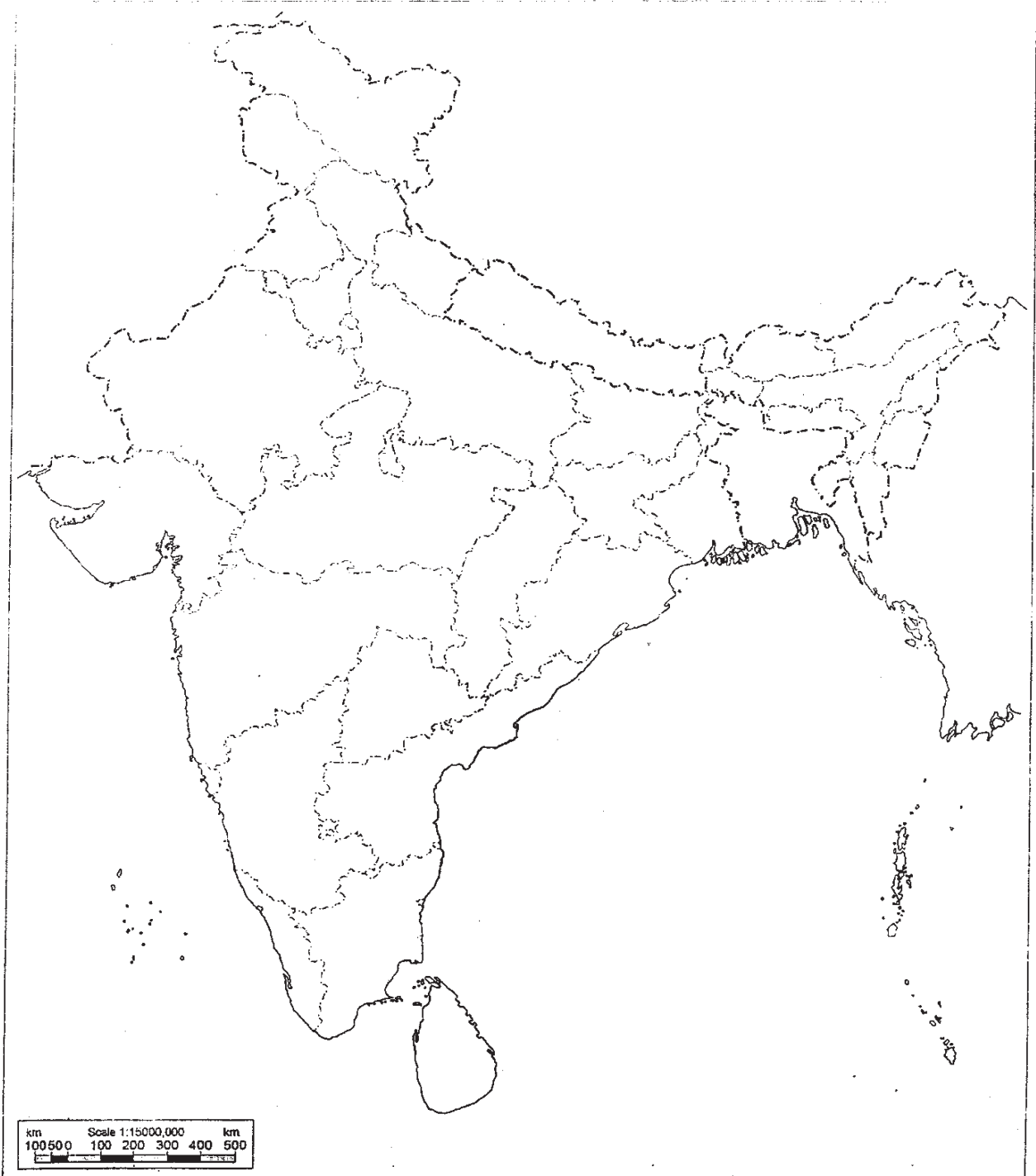


Q. No. 29  
प्र. संख्या 29

Roll No.  
अनुक्रमांक

--	--	--	--	--	--	--	--	--	--	--	--	--	--	--	--	--	--	--	--

भारत का रेखा-मानचित्र (राजनीतिक)  
Outline Map of India (Political)



63/OS/1-213-C]

G-940

11



For any help related to in NIOS please admission contact  
SS Coaching @9935035316