



**सामान्य अनुदेश :**

- 1 परीक्षार्थी प्रश्नपत्र के पहले पृष्ठ पर अपना अनुक्रमांक अवश्य लिखें ।
- 2 कृपया प्रश्नपत्र को जाँच लें कि प्रश्नपत्र के कुल पृष्ठों तथा प्रश्नों की उतनी ही संख्या है जितनी प्रथम पृष्ठ के सबसे ऊपर छपी है । इस बात की जाँच भी कर लें कि प्रश्न क्रमिक रूप में हैं ।
- 3 वस्तुनिष्ठ प्रश्नों में आपको चार विकल्पों (A), (B), (C) तथा (D) में से कोई एक उत्तर चुनना है तथा दी गई उत्तर-पुस्तिका में आप सही उत्तर लिखिए ।
- 4 वस्तुनिष्ठ प्रश्नों के साथ-साथ सभी प्रश्नों के उत्तर निर्धारित अवधि के भीतर ही देने हैं । वस्तुनिष्ठ प्रश्नों के लिए अलग से समय नहीं दिया जाएगा ।
- 5 उत्तर-पुस्तिका में पहचान-चिह्न बनाने अथवा निर्दिष्ट स्थानों के अतिरिक्त कहीं भी अनुक्रमांक लिखने पर परीक्षार्थी को अयोग्य ठहराया जायेगा ।
- 6 अपनी उत्तर-पुस्तिका पर प्रश्नपत्र की कोड संख्या **46/OS/1-A** लिखें ।
- 7 (क) प्रश्नपत्र केवल हिंदी/अंग्रेजी में है । फिर भी, यदि आप चाहें तो नीचे दी गई किसी एक भाषा में उत्तर दे सकते हैं :

अंग्रेजी, हिंदी, उर्दू, पंजाबी, बँगला, तमिल, मलयालम, कन्नड़, तेलुगु, मराठी, उड़िया, गुजराती, कोंकणी, मणिपुरी, असमिया, नेपाली, कश्मीरी, संस्कृत और सिंधी ।

कृपया उत्तर-पुस्तिका में दिए गए बॉक्स में लिखें कि आप किस भाषा में उत्तर लिख रहे हैं ।

- (ख) यदि आप हिंदी एवं अंग्रेजी के अतिरिक्त किसी अन्य भाषा में उत्तर लिखते हैं तो प्रश्न को समझने में होने वाली त्रुटियों / गलतियों की जिम्मेदारी केवल आपकी होगी ।

## IMPORTANT INSTRUCTIONS

1. This Question Paper Booklet contains two Question Papers - one based on revised study material marked as “**New Syllabus**” and the other based on pre-revised study material marked as “**Old Syllabus**”.
2. **New Syllabus** is compulsory for those who have registered for 2012-13 (Block-I) admission. (Those who are appearing in April 2013 under “**New Syllabus**”.)
3. **Old Syllabus** is compulsory for those who had registered before 2012-13 (Block- I) admission.
4. Answer only one Question Paper from given two Question papers.
5. Learners are not allowed to mix questions from the two given Question Papers.

## महत्वपूर्ण निर्देश

1. इस प्रश्न पुस्तिका में दो प्रश्नपत्र हैं : एक संशोधित अध्ययन सामग्री पर आधारित है जिस पर ‘नया पाठ्यक्रम’ अंकित है तथा दूसरा संशोधन से पूर्व अध्ययन सामग्री पर आधारित है जिस पर ‘पुराना पाठ्यक्रम’ अंकित है ।
2. नया पाठ्यक्रम उन परीक्षार्थियों के लिए अनिवार्य है जिनका नामांकन 2012-13 (ब्लॉक-I) में हुआ है । (जो अप्रैल 2013 में ‘नए पाठ्यक्रम’ के अंतर्गत परीक्षा में बैठने जा रहे हैं ।)
3. पुराना पाठ्यक्रम उन परीक्षार्थियों के लिए अनिवार्य है जिनका नामांकन 2012-13 (ब्लॉक-I) के पहले हुआ है ।
4. परीक्षार्थी उपर्युक्त निर्देश के अनुसार केवल एक प्रश्नपत्र की ही परीक्षा दें ।
5. परीक्षार्थी को दो प्रश्नपत्रों के प्रश्नों को मिलाकर उत्तर देने की आज्ञा नहीं है ।

# SOCIAL SCIENCE

**NEW**

(सामाजिक विज्ञान)

(213)

**New Syllabus / नया पाठ्यक्रम**

Time : 3 Hours]

[Maximum Marks : 100

समय : 3 घण्टे]

[पूर्णांक : 100

- Note :**
- (1) All questions are **compulsory** and carry marks as indicated against each question.
  - (2) For Multiple choice questions, **four** options are given. You have to choose right option and indicate it in your answer book.
  - (3) Attach the map with answer book.

- निर्देश :**
- (1) सभी प्रश्न अनिवार्य हैं और प्रत्येक प्रश्न के अंक उसके सामने दिये गये हैं।
  - (2) वस्तुनिष्ठ प्रश्नों के चार विकल्प दिये गये हैं। आप सही विकल्प चुनिए और अपनी उत्तर पुस्तिका में लिखिए।
  - (3) दिये गये मानचित्र को उत्तर पुस्तिका के साथ संलग्न कर दीजिये।

**1** In the given outline map of India mark and label the following : **1×4=4**

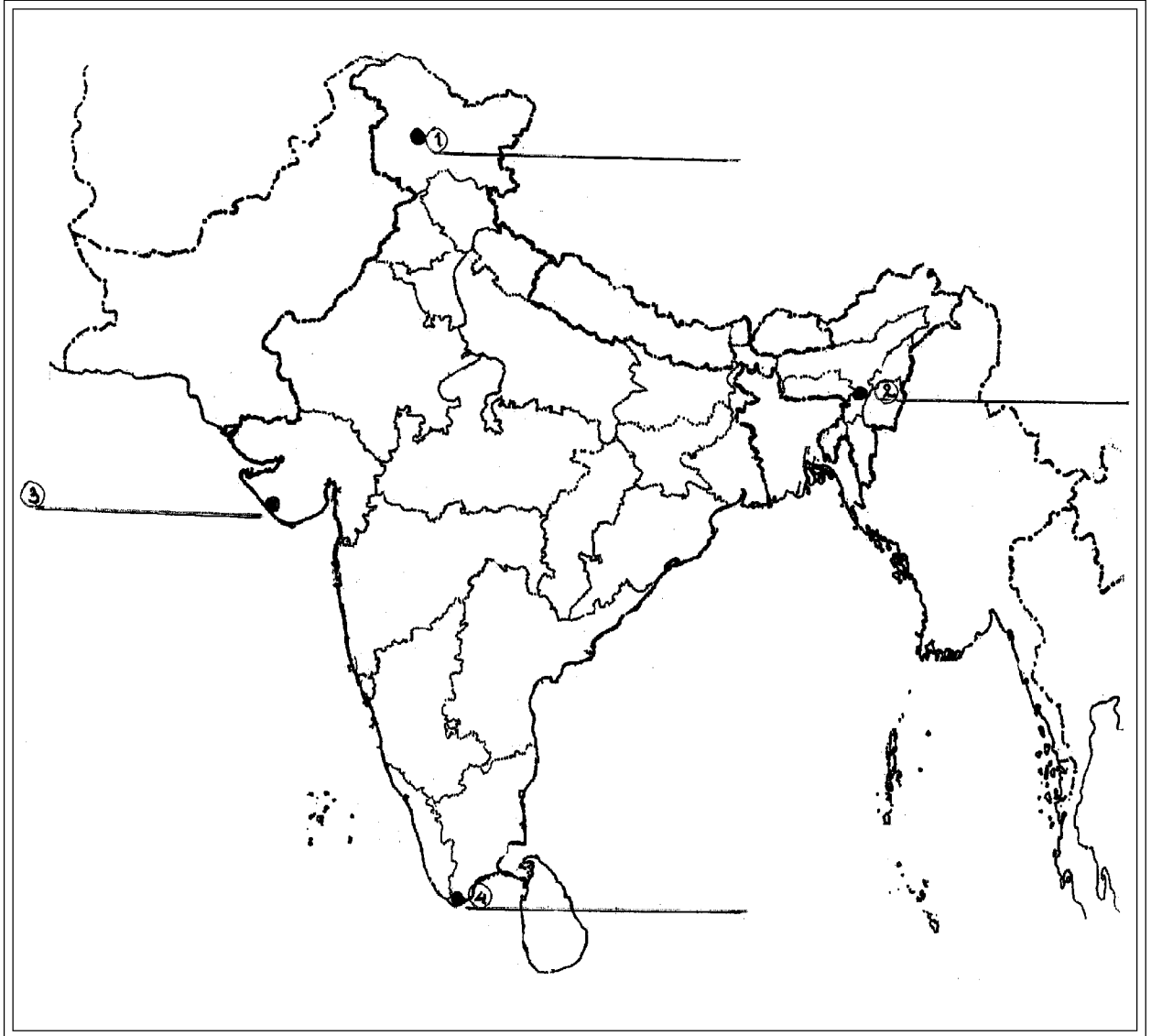
- (i) Aravali Range
- (ii) Krishna River
- (iii) Bandipur Wild Sanctuary
- (iv) One area of Himalayan vegetation

दिये गये भारत के रेखा मानचित्र में निम्नलिखित को उपयुक्त चिन्हों द्वारा दर्शाइये और उनके नाम लिखिये :

- (i) अरावली पर्वत श्रृंखला
- (ii) कृष्णा नदी
- (iii) बाँदीपुर वन्य अभयारण्य
- (iv) हिमालयी वनस्पति वाला एक क्षेत्र

- 2 Identify and write in your answer-book the correct names of four terminal cities of North-South and East-West corridors of India shown as 1, 2, 3 and 4 in the given outline map of India.  $1 \times 4 = 4$

दिये गये भारत के रेखामानचित्र में भारत के उत्तर-दक्षिण तथा पूर्व-पश्चिम गलियारे के चार अंतिम नगरों को 1, 2, 3 और 4 से दिखलाया गया है। इन्हें पहचानिये तथा इनके सही नाम अपनी उत्तर पुस्तिका में लिखिये।



OR/अथवा

**Note :** The following question are for the **BLIND CANDIDATES ONLY** in lieu of Question No. 1 and 2.

Answer to these questions must not be in more than one sentence.

नीचे दिए गए प्रश्न केवल दृष्टिहीन परीक्षार्थियों के लिए प्रश्न संख्या 1 तथा 2 के स्थान पर हैं। इन प्रश्नों में से प्रत्येक का उत्तर मात्र एक वाक्य में दीजिये।

(1.1) Give any two characteristics of Thar Desert. 2

(1.2) Name two major drainage systems of India. 2

(1.3) Write names of any two food crops of India. 2

(1.4) Name two major sea ports of India situated in Gujarat and Maharashtra. 2

(1.1) थार मरुस्थल की कोई दो विशेषतायें दीजिए।

(1.2) भारत की दो प्रमुख जल प्रवाह प्रणालियों के नाम बताइये।

(1.3) भारत की किन्हीं दो खाद्य फसलों के नाम लिखिये।

(1.4) गुजरात तथा महाराष्ट्र में स्थित भारत के दो प्रमुख बंदरगाहों के नाम लिखिये।

**3** Which of the following is the length of land boundary of India ? 1

(A) 6100 km (B) 15200 km

(C) 16200 km (D) 17200 km

निम्न में से कौन-सी भारत की स्थल सीमा की लम्बाई है ?

(A) 6100 km (B) 15200 km

(C) 16200 km (D) 17200 km

4 The word mausim belongs to which one of the following languages ? 1

- (A) Hindi (B) Urdu  
(C) Arabic (D) Persian

निम्नलिखित भाषाओं में से मौसिम शब्द किस भाषा का है ?

- (A) हिन्दी (B) उर्दू  
(C) अरबी (D) फारसी

5 Which of the following values is **not** taken in the preamble of our constitution ? 1

- (A) Sovereignty (B) Socialism  
(C) Communism (D) Secularism

निम्न में से कौन-सा मूल्य हमारे संविधान की प्रस्तावना में नहीं है ?

- (A) सम्प्रभुता (B) समाजवाद  
(C) साम्यवाद (D) पंथनिरपेक्षता

6 The word democracy has its origin in which ancient civilization of the world ? 1

- (A) Persian (B) Greek  
(C) Roman (D) Egyptian

डेमोक्रेसी (लोकतंत्र) शब्द की उत्पत्ति संसार की किस प्राचीन सभ्यता में हुई ?

- (A) परसियन (B) ग्रीक  
(C) रोमन (D) इजिप्शियन

- 7 Mention the names of two countries which had an advanced civilization during the Bronze Age ? 2

काँस्य युगीन विकसित सभ्यता वाले दो देशों के नाम लिखिये।

- 8 Mention the two titles given by the British government to the Indians. 2

ब्रिटिश सरकार द्वारा भारतीयों को दी गई दो उपाधियों के नाम लिखिये।

- 9 Write two reasons responsible for the rise of communalism. 2

साम्प्रदायिकता के जन्म लेने के उत्तरदायी दो कारणों की व्याख्या कीजिए।

- 10 Define the term 'sustainable development'. 2

‘संधारणीय विकास’ शब्द की परिभाषा लिखिये।

- 11 Describe any four features of feudalism prevalent in Europe in the medieval period. 4×1=4

मध्यकाल में यूरोप में प्रचलित सामंतवाद की किन्हीं चार विशेषताओं का वर्णन कीजिये।

- 12 Explain any four reasons responsible for the commencement of Renaissance in Italy during the fourteenth century. 4×1=4

चौदहवीं शताब्दी में इटली में आये पुर्नजागरण के लिये उत्तरदायी किन्हीं चार कारणों की व्याख्या कीजिए।



- 13 Explain four reasons why Britain became the first country in Europe to have an industrial revolution.  $4 \times 1 = 4$

ब्रिटेन, यूरोप में औद्योगिक क्रांति लाने वाला पहला देश क्यों बन गया, चार कारण स्पष्ट कीजिए।

- 14 Why did the British feel a need to introduce new land settlements in India ? Explain three revenue systems introduced by the British in India.  $1 + 3 = 4$

अंग्रेजों ने भारत में नयी भूराजस्व प्रणालियों को लागू करने की आवश्यकता क्यों समझी? अंग्रेजों द्वारा चलाई गयी तीन भूराजस्व प्रणालियों की व्याख्या कीजिये।

- 15 Examine the state of indigenous education system of Hindus in India in the beginning of eighteenth century. 4

अठारहवीं शताब्दी के प्रारम्भ में भारत के हिन्दुओं में प्रचलित शिक्षा व्यवस्था का परीक्षण कीजिये।

- 16 Describe any four features of tropical evergreen forests of India.  $4 \times 1 = 4$

भारत के ऊष्णकटिबंधीय सदाहरित वनों की किन्हीं चार विशेषताओं का वर्णन कीजिये।

- 17 Explain any two characteristics each of subsistence farming and commercial farming practised in India.  $2 + 2 = 4$

भारत में प्रचलित निर्वाह एवं वाणिज्यिक कृषि की दो-दो विशेषताओं की व्याख्या कीजिए।

- 18 How is the road transport significant in day to day life ? Explain with four examples.  $4 \times 1 = 4$

सड़क यातायात दैनिक जीवन में किस प्रकार महत्वपूर्ण है ? चार उदाहरणों द्वारा स्पष्ट कीजिए।

- 19 Describe any four features of the Directive Principle-Social and economic equality'. 4×1=4

नीति निर्देशक सिद्धान्त 'सामाजिक और आर्थिक समानता' की किन्हीं चार विशेषताओं का वर्णन कीजिए।

- 20 Define Panchayati Raj. Describe its three tiers. 1+3=4

पंचायती राज की परिभाषा लिखिये। इसके तीन स्तरों का वर्णन कीजिये।

- 21 Explain the composition of the Legislative Council of a state. 4

एक राज्य की विधान परिषद् के गठन की व्याख्या कीजिये।

- 22 How is the President of India elected ? Explain. 4

भारत के राष्ट्रपति को कैसे निर्वाचित किया जाता है? समझाइये।

- 23 Why are the political parties a must in a democracy ? Explain four reasons. 4×1=4

लोकतन्त्र में राजनीतिक दलों की आवश्यकता क्यों है? चार कारण स्पष्ट कीजिए।

- 24 How does the Indian constitution promote 'national integration' ? 4×1=4  
Explain four ways.

'राष्ट्रीय अखंडता' को भारतीय संविधान किस प्रकार बढ़ावा देता है? चार तरीके स्पष्ट कीजिए।

- 25 Explain any four strategies adopted by the centre and state governments to reduce dropout rate and improve the level of achievement in schools. 4×1=4

विद्यालय छोड़ने के अनुपात को कम करने तथा विद्यालयों में उपलब्धि स्तर को बढ़ाने के लिये केन्द्र और राज्य सरकारों द्वारा अपनाई गई किन्हीं चार योजनाओं की व्याख्या कीजिए।

- 26 Give an account of the Santhal rebellion of 1855-57. 5

1855-57 के संथाल विद्रोह का विवरण दीजिए।

- 27 Why and how was the Muslim League formed ? Explain. 5

मुस्लिम लीग का गठन क्यों और किस प्रकार हुआ? व्याख्या कीजिये।

- 28 Examine the factors which influence the distribution and density of population in an area. 5

किसी क्षेत्र में जनसंख्या के घनत्व तथा वितरण को प्रभावित करने वाले कारकों का परीक्षण कीजिये।

- 29 Assess the role of agencies which help in the formation of public opinion. 5

जनमत बनाने वाले प्रमुख अभिकरणों की भूमिका का आकलन कीजिये।

# SOCIAL SCIENCE

**OLD**

(सामाजिक विज्ञान)

(213)

**Old Syllabus / पुराना पाठ्यक्रम**

Time : 3 Hours]

[Maximum Marks : 100

समय : 3 घण्टे]

[पूर्णांक : 100

- Note :**
- (1) All questions are **compulsory** and carry marks as indicated against each question.
  - (2) For Multiple choice questions, **four** options are given. You have to choose correct option and indicate it in your answer book.
  - (3) Attach the map with answer book.

- निर्देश :**
- (1) सभी प्रश्न अनिवार्य हैं और प्रत्येक प्रश्न के अंक उसके सामने दिये गये हैं।
  - (2) वस्तुनिष्ठ प्रश्नों के चार विकल्प दिये गये हैं। आप सही विकल्प चुनिए और अपनी उत्तर पुस्तिका में लिखिए।
  - (3) दिये गये मानचित्र को उत्तर पुस्तिका के साथ संलग्न कर दीजिये।

- 1 (a) On the given outline map of India mark and locate the following with appropriate symbols : 1×3=3

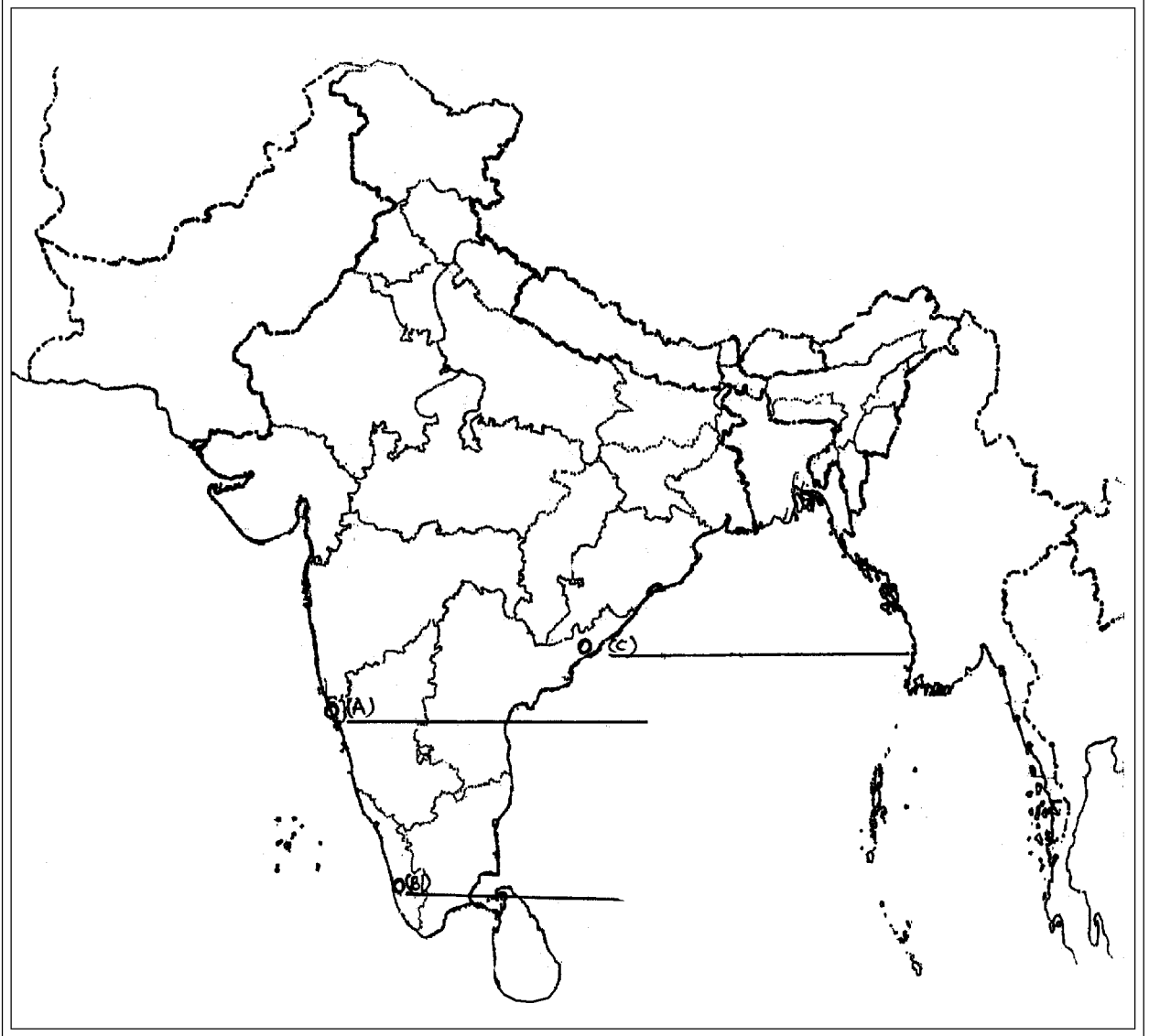
- (i) Aravali Range
- (ii) Mahanadi
- (iii) Gir Sanctuary

दिये गये भारत के रेखामानचित्र में निम्नलिखित को उपयुक्त चिन्हों द्वारा दर्शाइये और उनके नाम लिखिये :

- (i) अरावली पर्वतमाला
- (ii) महानदी
- (iii) गिर अभयारण्य

- (b) Identify and write in your answer book names of three ports shown as (A), (B) and (C) in the map of India.  $1 \times 3 = 3$

दिय गये भारत के मानचित्र में तीन पत्तनों (बंदरगाहों) को (A), (B) तथा (C) के द्वारा दिखाया गया है। इन्हें पहचानिये तथा अपनी उत्तर पुस्तिका में उनके सही नाम लिखिये।



OR/अथवा

**Note :** The following question is for **BLIND CANDIDATES ONLY** in lieu of Question No. 1 (a) and (b) :

Answer to these questions must not be more than one sentence.

नीचे दिए गए प्रश्न केवल दृष्टिहीन परीक्षार्थियों के लिए प्रश्न संख्या 1 (a) तथा (b) के स्थान पर है। :

निम्नलिखित प्रश्नों के उत्तर अधिक से अधिक एक वाक्य में दीजिए।

(1.1) Mention the longitudinal location of India. 1

(1.2) State two factors which determine the climate of India. 1

(1.3) Define soil. 1

(1.4) Mention two food crops of India. 1

(1.5) Name any two major sea ports located on the West coast of India. 1

(1.6) What is meant by agro based industries ? 1

(1.1) भारत की देशान्तरीय स्थिति का उल्लेख कीजिए।

(1.2) भारत की जलवायु को प्रभावित करने वाले किन्हीं दो कारकों का उल्लेख कीजिए।

(1.3) 'मृदा' शब्द की परिभाषा लिखिये।

(1.4) भारत की किन्हीं दो खाद्य फसलों के नाम लिखिये।

(1.5) भारत के पश्चिमी तट पर स्थित कोई दो मुख्य बंदरों के नाम दीजिए।

(1.6) कृषि आधारित उद्योगों से क्या अभिप्राय हैं ?

2 Which country was recognised as the successor of the Soviet Union after its break up ? 1

सोवियत संघ के टूटने के बाद किस देश को उसके उत्तराधिकारी के रूप में मान्यता मिली ?

3 Why is India called a republic ? Give one reason. 1

भारत को एक गणतंत्र क्यों कहते हैं? एक कारण बताइये।

4 Give one reason for why are the fundamental rights important ? 1

मौलिक अधिकार महत्वपूर्ण क्यों हैं? एक कारण बताइये।

5 How many times does a Gram Sabha holds its meetings in a year ? 1

ग्राम सभा एक साल में कितनी बैठकें करती है?

6 What is the meaning of unicameral legislature ? 1

एक सदनीय विधायिका का क्या अर्थ है?

7 The First World War began in the year – 1

(A) 1910 (B) 1911

(C) 1912 (D) 1914

प्रथम विश्व युद्ध प्रारम्भ हुआ था, वर्ष –

(A) 1910 (B) 1911

(C) 1912 (D) 1914

8 In which of the following years was the League of Nations formed ? 1

- (A) 1918 (B) 1919  
(C) 1920 (D) 1921

निम्नलिखित वर्षों में से लीग ऑफ नेशन्स की स्थापना कब हुई थी ?

- (A) 1918 (B) 1919  
(C) 1920 (D) 1921

9 Which of the following is a popular South Indian food ? 1

- (A) Chhole Bhature (B) Kabab Parantha  
(C) Sambhar Dosa (D) Mughlai food

निम्न में से कौन एक लोकप्रिय दक्षिण भारतीय व्यंजन है ?

- (A) छोले भटूरे (B) कबाब परांठा  
(C) साँभर दोसा (D) मुगलई खाना

10 In which year was the battle of Plassey fought ? 1

- (A) 1657 (B) 1757  
(C) 1857 (D) 1957

किस वर्ष में प्लासी का युद्ध लड़ा गया ?

- (A) 1657 (B) 1757  
(C) 1857 (D) 1957



11 How many members were in the Constituent Assembly of India ? 1

(A) 369 (B) 379

(C) 389 (D) 399

भारत की संविधान सभा में कितने सदस्य थे ?

(A) 369 (B) 379

(C) 389 (D) 399

12 In which of the following cities was the first Municipal Corporation formed in India ? 1

(A) Bombay (B) Calcutta

(C) Lahore (D) Chennai

भारत में पहली नगर पालिका कहाँ बनाई गयी थी ?

(A) बंबई (B) कलकत्ता

(C) लाहौर (D) चेन्नई

13 When was the Shimla agreement signed between India and Pakistan ? 1

(A) 1962 (B) 1972

(C) 1982 (D) 1992

भारत तथा पाकिस्तान के बीच शिमला समझौते पर कब हस्ताक्षर किये गये थे ?

(A) 1962 (B) 1972

(C) 1982 (D) 1992

14 Mention any four characteristics of the Ancient Egyptian Civilization. 4

प्राचीन मिस्री सभ्यता की किन्हीं चार प्रमुख विशेषताओं का उल्लेख कीजिए।

15 "The Iron Age is regarded as a remarkable period of growth of human civilization". 4  
Analyse the statement.

‘‘लौह युग को मानव सभ्यता के इतिहास में एक महत्वपूर्ण काल के रूप में माना जाता है।’’  
इस कथन का विश्लेषण कीजिये।

16 Describe any four methods helpful in conservation of minerals in India. 4

भारत में खनिज संसाधनों के संरक्षण में सहायक किन्हीं चार विधियों का वर्णन करो।

17 Explain any four points of significance of air transport. 4

वायु परिवहन के महत्ता के किन्हीं चार बिंदुओं की व्याख्या कीजिये।

18 Define the term 'population'. Describe census operation. 4

जनसंख्या शब्द की परिभाषा दीजिये। जनगणना अभियान का वर्णन कीजिए।

19 Explain the main components of the Indian social structure. 4

भारतीय सामाजिक संरचना के मुख्य घटकों की व्याख्या कीजिये।

20 "Population of a country is its real resource" Examine the statement. 4

‘किसी देश की जनसंख्या उस देश का वास्तविक संसाधन होती है।’ कथन का परीक्षण कीजिये।

21 Give an account of the Battle of Buxar. 4

बक्सर के युद्ध का विवरण दीजिये।

22 Explain the objectives of the Faraizi Movement which grew among Muslims of East Bengal. 4

पूर्वी बंगाल में मुसलमानों के बीच विकसित हुये फराइजी आंदोलन के उद्देश्यों की व्याख्या कीजिये।

23 Explain, how we can perform smoothly our duties towards our nation ? 4

हम अपने देश के प्रति किस प्रकार से अपने कर्तव्यों का सुचारू रूप से निर्वहन कर सकते हैं? स्पष्ट कीजिए।

24 Describe the functions of the Panchayati Samiti. 4

पंचायती समिति के कार्यों का वर्णन कीजिए।

25 Explain with examples does the parliament keep an effective check on the Council of Ministers / real executive. 4

संसद किस प्रकार वास्तविक कार्य पालिका /मंत्रि परिषद् पर प्रभावी नियंत्रण रखती है? उदाहरणों सहित स्पष्ट कीजिए।

26 Explain the functions of the Central Secretariat. 4

केन्द्रीय सचिवालय के कार्यों की व्याख्या कीजिये।

27 How did the reorganization of the states pave the path for national integration in India ? Explain. 4

भारत में राज्यों के पुनर्गठन ने राष्ट्रीय एकीकरण का मार्ग किस प्रकार प्रशस्त किया? स्पष्ट कीजिए।

28 How do we calculate human development index for comparing the quality of human life in different countries ? Explain. 4

विभिन्न देशों में मानव जीवन की गुणवत्ता की तुलना के लिये हम मानव विकास सूचकांक की गणना किस प्रकार करते हैं? स्पष्ट कीजिए।

29 Analyze any four challenges before India in the present circumstances. 4

वर्तमान समय में भारत के समक्ष उपस्थित किन्हीं चार चुनौतियों का विश्लेषण कीजिये।

30 Explain the growth of the political institutions during the Medieval Period in India. 6

भारत में मध्यकाल के दौरान राजनीतिक संस्थाओं के विकास की व्याख्या कीजिये।

31 Why did a revolt break out in India in 1857 ? Explain six reasons. 6

भारत में 1857 का विद्रोह क्यों फूटा? छः कारणों को स्पष्ट कीजिए।

32 Why are the provisions of justice, liberty, equality and fraternity a must in democracy. Explain.

6

लोकतंत्र में न्याय, स्वतंत्रता, समानता तथा भाईचारे के प्रावधानों का होना क्यों आवश्यक है? व्याख्या कीजिए।

---

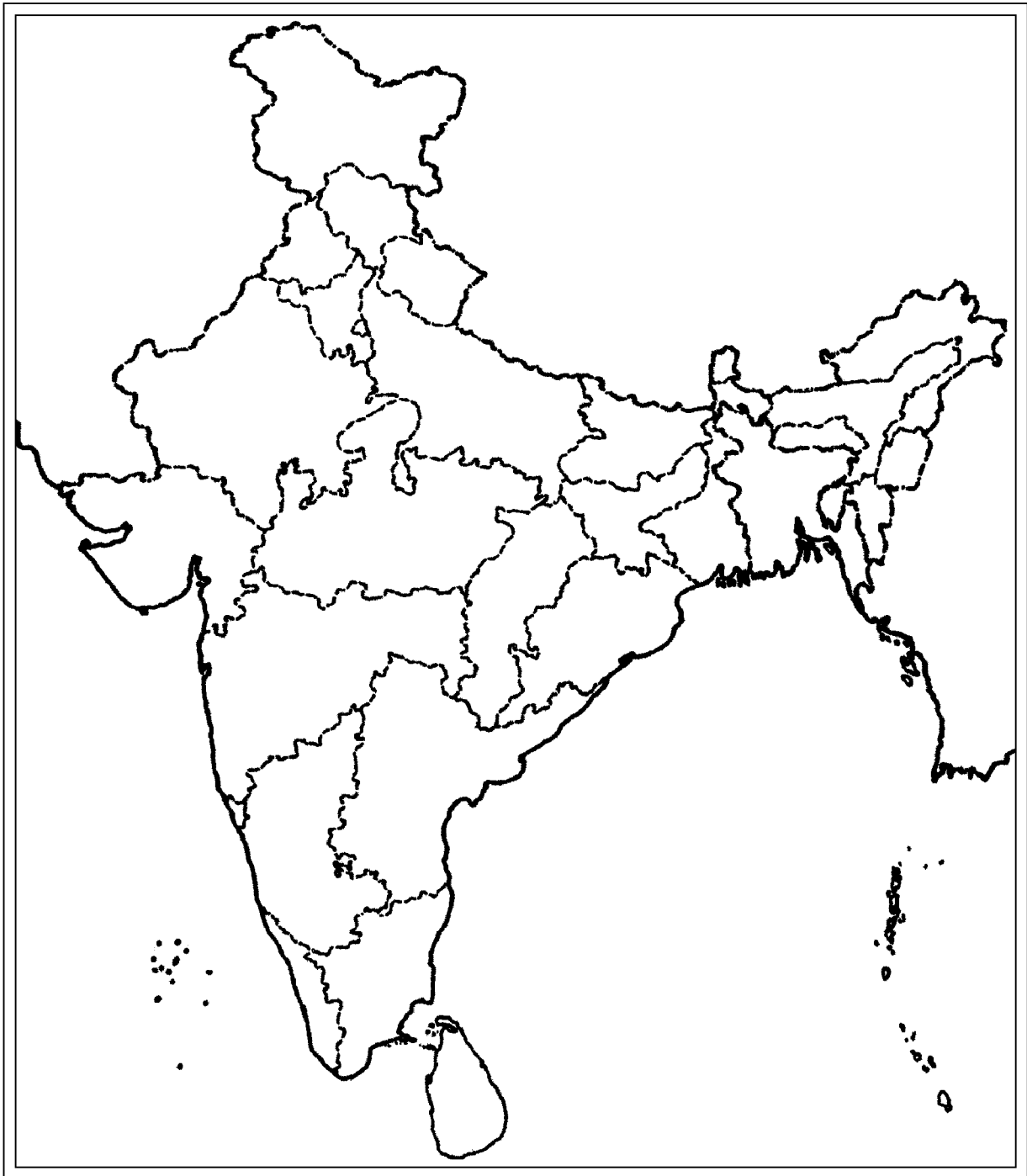




Roll No.

--	--	--	--	--	--	--	--	--	--	--	--	--	--	--	--	--	--	--	--

### Outline Map of India (Political)



46/OS/1—213\_A ]

23



[ 1,18,000 ÷ 3 ]



**For any help and enquiry related to NIOS please contact  
SS Coaching at 9839065533**